

- 1.3- عبر عن الطاقة الميكانيكية بدلالة J_Δ و ω و m و g ؟ أحسب قيمتها؟
 1.4- استنتج طاقة الوضع الثقالية لحظة تحرير الساق؟ (نختار $E_p=0$ عند $\theta=0$)
 1.5- ما قيمة السرعة الزاوية ω_0 التي يجب تحرير الساق بها لكي تتوقف في موضع توازنها الغير المستقر؟
 2^o نحرر من جديد الساق بدون سرعة بدئية من نفس الموضع .
 خلال مرور الساق من موضع التوازن المستقر تنعدم سرعتها عندما تكون مع الخط الرأسي زاوية $\theta_f = 28^\circ$.

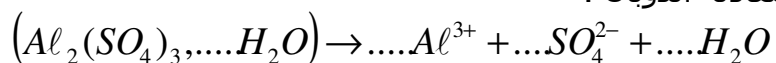
2.1- بين أن تعبير تغير الطاقة الميكانيكية بين الموضعين $\theta = \theta_m$ و $\theta = \theta_f$

$$\Delta E_m = mg \frac{\ell}{2} (\cos \theta_m - \cos \theta_f) \quad \text{يكتب على الشكل :}$$

2.2- أحسب عزم قوى الاحتكاكات المسلطة على الساق؟

الكيمياء:

- نحصل على محلول (S) حجمه $V = 50\text{ml}$ وتركيزه $7,4 \cdot 10^{-2} \text{mol/l}$ بإذابة كتلة $m = 2,2\text{g}$ من كبريتات الألومنيوم المميه $(Al_2(SO_4)_3, nH_2O)$.
 1^o أحسب عدد المولات الموجودة في الحجم $V = 50\text{ml}$ ؟
 2^o أحسب قيمة العدد الصحيح n ؟
 3^o وازن معادلة الذوبان :



4.1. 4^o . أملأ جدول التقدم التالي :

معادلة التفاعل		$(Al_2(SO_4)_3, \dots H_2O) \rightarrow \dots Al^{3+} + \dots SO_4^{2-} + \dots H_2O$		
حالة التفاعل	التقدم	كميات المادة ب (mol)		
المذيب	0	$n_0 = \dots$	\dots	\dots
المذيب	x	\dots	\dots	\dots
المذيب	x_{\max}	\dots	\dots	\dots

4.2- حدد التقدم الأقصى x_{\max} ؟

4.3- أحسب تراكيز الأنواع الكيميائية الموجودة في المحلول في الحالة النهائية؟

4.4- مثل مخطط كمية مادة المتفاعل و النواتج بدلالة التقدم x ؟

top-bac@hotmail.com

SOUTIEN SCOLAIRE.

فيزياء 1: نأخذ $g = 10\text{N/kg}$

نعطي $OC=OD=R=1\text{m}$ و $BC = 2\text{m}$ و $AB = 10\text{m}$

(S) : جسم نعتبره نقطيا وكتلته $m = 1\text{kg}$. (شكل 1)

1^o ينتقل الجسم على الجزء AB تحت تأثير قوة شدتها $F=5\text{N}$ موازية للمسار AB . نهمل الاحتكاكات على الجزء AB .

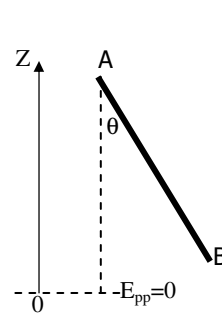
1.1- أكتب تعبير $W_{A \rightarrow B}(\vec{F})$ و $W_{A \rightarrow B}(\vec{P})$ بدلالة معطيات التمرين؟

1.2- حدد تعبير و قيمة الزاوية β لكي تكون للجسم حركة مستقيمة منتظمة؟
 2^o يصل الجسم إلى الموضع B بسرعة $V_B=10\text{m/s}$ عندها نحذف القوة \vec{F} .
 نختار المستوى المار من BC كمرجع لطاقة الوضع الثقالية .

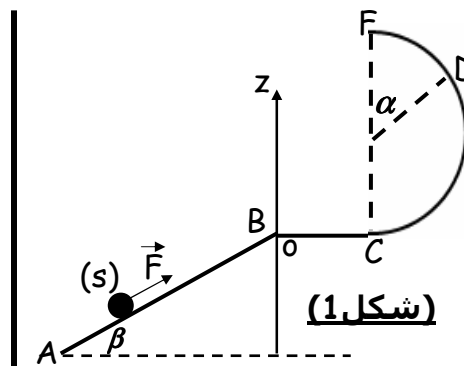
2.1 - أعط تعبير الطاقة الميكانيكية للجسم في موضع أنسوب Z وأحسب $E_m(B)$

2.2- يصل الجسم إلى الموضع C بسرعة $V_C=6\text{m/s}$. بين أن الطاقة الميكانيكية غير محافظة بين B و C ثم استنتج الشغل المسؤول عنها؟

2.3- نعتبر الاحتكاكات مهملة على الجزء CDF انطلاقا من C يصل الجسم إلى D بسرعة منعدمة. عبر عن $E_m(D)$ بدلالة m و g و R و α ثم أحسب قيمة α ؟



(شكل 2)



(شكل 1)

فيزياء 2:

نعتبر عارضة متجانسة كتلتها $m=500\text{g}$ وطولها $\ell = 30\text{cm}$ قابلة للدوران حول محور ثابت (شكل 2-أعلاه). نعطي عزم قصور الساق : $J_\Delta=1,5 \cdot 10^{-2} \text{kg.m}^2$.

1^o نزيح الساق بزاوية $\theta_m=30^\circ$ عن موضع التوازن المستقر ثم نحررها بدون سرعة بدئية في لحظة t_0 . نعتبر الاحتكاكات مهملة.

1.1- أحسب شغل القوى المطبقة على الساق بين لحظة تحريرها ولحظة

مرورها لأول مرة من موضع التوازن المستقر t_1 ؟

1.2- أحسب السرعة الزاوية القصوى للساق في اللحظة t_1 ؟