

LYCEE COLLEGIAL OMAR BNO LKHATAB- BERKANE  
DEVOIR PRATIQUE – 2<sup>ème</sup> Semestre **Durée : 30 min**


Nom & Prénom : .....

N° : .....

Classe : .....

**Exercice 1 :** (5pts)

*Ecris une procédure Logo permettant de dessiner la figure (1) :*



**Pour figure**

Repete 180 [av 3 td 1]

Repete 180 [av 1 td 1]


Repete 180 [av 2 tg 1]

Td 180

**Fin**

**Exercice 2 :** (5pts)

*A l'aide de la figure (1) Réalise la figure (2) :*



Repete 10 [figure td 36]

LYCEE COLLEGIAL OMAR BNO LKHATAB- BERKANE  
DEVOIR PRATIQUE – 2<sup>ème</sup> Semestre **Durée : 30 min**

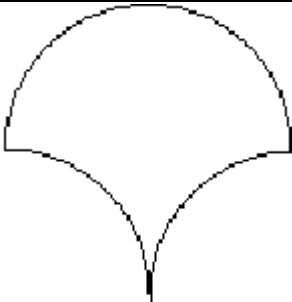
Nom & Prénom : .....

N° : .....

Classe : .....

**Exercice 1 :** (5pts)

*Ecris une procédure Logo permettant de dessiner la figure (1) :*



**Pour figure**

Repete 90 [av 1 td 1] tg 90

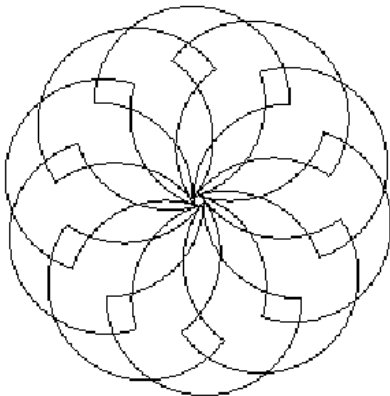
Repete 180 [av 1 tg 1] tg 90

Repete 90 [av 1 td 1] tg 180

**Fin**

**Exercice 2 :** (5pts)

*A l'aide de la figure (1) Réalise la figure (2) :*



Repete 10 [figure td 36]

LYCEE COLLEGIAL OMAR BNO LKHATAB- BERKANE  
DEVOIR PRATIQUE – 2<sup>ème</sup> Semestre **Durée : 30 min**

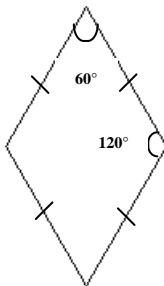
Nom & Prénom : .....

N° : .....

Classe : .....

**Exercice 1 :** (5pts)

*Ecris une procédure Logo permettant de dessiner la figure (1) :*



Pour figure

Td 30


repete 2 [av 100 tg 60 av 100 tg

120] tg 30

Fin

**Exercice 2 :** (5pts)

*A l'aide de la figure (1) Réalise la figure (2) :*



Repete 10 [figure td 36]

LYCEE COLLEGIAL OMAR BNO LKHATAB- BERKANE  
DEVOIR PRATIQUE – 2<sup>ème</sup> Semestre **Durée : 30 min**


Nom & Prénom : .....

N° : .....

Classe : .....

**Exercice 1 :** (5pts)

*Ecris une procédure Logo permettant de dessiner la figure (1) :*



**Pour** figure

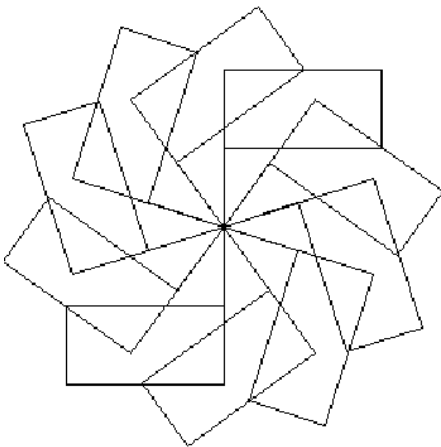
Av 50 repete 2[av 50 td 90 av

100 td 90] re 50

**Fin**

**Exercice 2 :** (5pts)

*A l'aide de la figure (1) Réalise la figure (2) :*



Repete 10 [figure td 36]

LYCEE COLLEGIAL OMAR BNO LKHATAB- BERKANE  
DEVOIR PRATIQUE – 2<sup>ème</sup> Semestre **Durée : 30 min**

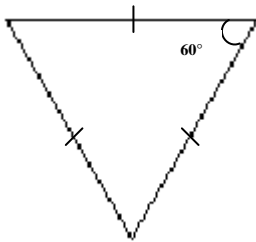
Nom & Prénom : .....

N° : .....

Classe : .....

**Exercice 1 :** (5pts)

*Ecris une procédure Logo permettant de dessiner la figure (1) :*



Pour figure

Tg 30

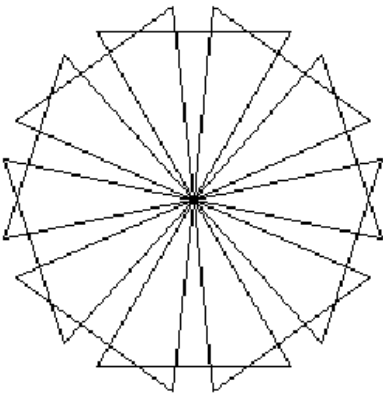
Repete 3 [av 100 td 120]

Td 30

Fin

**Exercice 2 :** (5pts)

*A l'aide de la figure (1) Réalise la figure (2) :*



Repete 10 [figure td 36]

LYCEE COLLEGIAL OMAR BNO LKHATAB- BERKANE  
DEVOIR PRATIQUE – 2<sup>ème</sup> Semestre **Durée : 30 min**

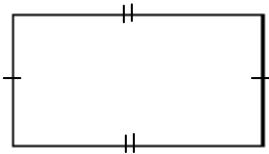
Nom & Prénom : .....

N° : .....

Classe : .....

**Exercice 1 :** (5pts)

*Ecris une procédure Logo permettant de dessiner la figure (1) :*



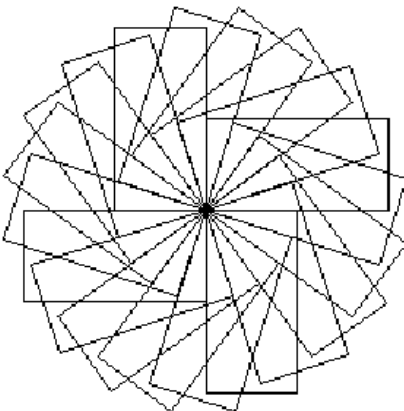
Pour figure

Repete 2 [av 50 td 90 av 100 td  
90 ]

Fin

**Exercice 2 :** (5pts)

*A l'aide de la figure (1) Réalise la figure (2) :*



Repete 20 [figure td 18]

LYCEE COLLEGIAL OMAR BNO LKHATAB- BERKANE  
DEVOIR PRATIQUE – 2<sup>ème</sup> Semestre **Durée : 30 min**

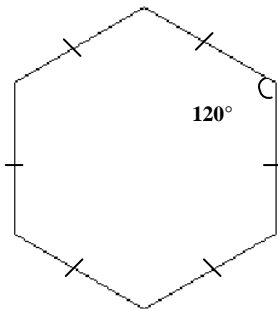
Nom & Prénom : .....

N° : .....

Classe : .....

**Exercice 1 :** (5pts)

*Ecris une procédure Logo permettant de dessiner la figure (1) :*



Pour figure

Tg 60

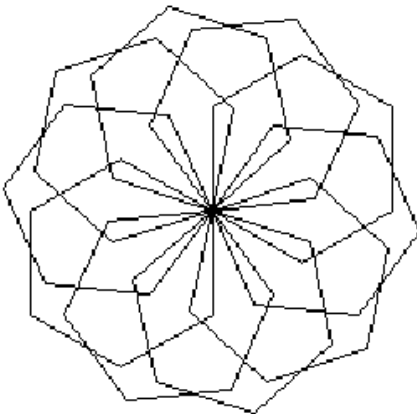
Repete 6 [av 100 td 60]

Td 60

Fin

**Exercice 2 :** (5pts)

*A l'aide de la figure (1) Réalise la figure (2) :*



Repete 10 [figure td 36]

LYCEE COLLEGIAL OMAR BNO LKHATAB- BERKANE  
DEVOIR PRATIQUE – 2<sup>ème</sup> Semestre **Durée : 30 min**

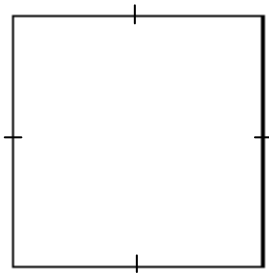
Nom & Prénom : .....

N° : .....

Classe : .....

**Exercice 1 :** (5pts)

*Ecris une procédure Logo permettant de dessiner la figure (1) :*



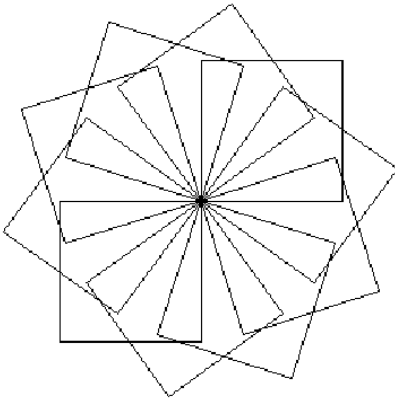
Pour figure

Repete 4 [av 100 td 90]

Fin

**Exercice 2 :** (5pts)

*A l'aide de la figure (1) Réalise la figure (2) :*



Repete 10 [figure td 36]



LYCEE COLLEGIAL OMAR BNO LKHATAB- BERKANE  
DEVOIR PRATIQUE – 2<sup>ème</sup> Semestre **Durée : 30 min**

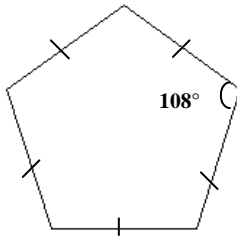
Nom & Prénom : .....

N° : .....

Classe : .....

**Exercice 1 :** (5pts)

*Ecris une procédure Logo permettant de dessiner la figure (1) :*



Pour figure

Tg 90

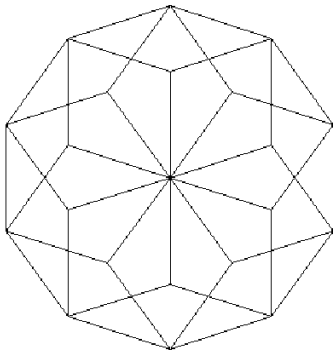
Repete 5 [av 100 td 72]

Td 90

Fin

**Exercice 2 :** (5pts)

*A l'aide de la figure (1) Réalise la figure (2) :*



Repete 10 [figure td 36]

LYCEE COLLEGIAL OMAR BNO LKHATAB- BERKANE  
DEVOIR PRATIQUE – 2<sup>ème</sup> Semestre **Durée : 30 min**

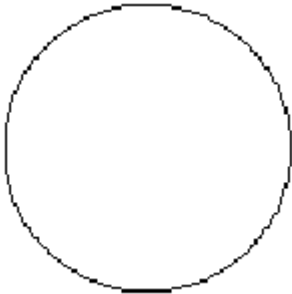
Nom & Prénom : .....

N° : .....

Classe : .....

**Exercice 1 :** (5pts)

*Ecris une procédure Logo permettant de dessiner la figure (1) :*



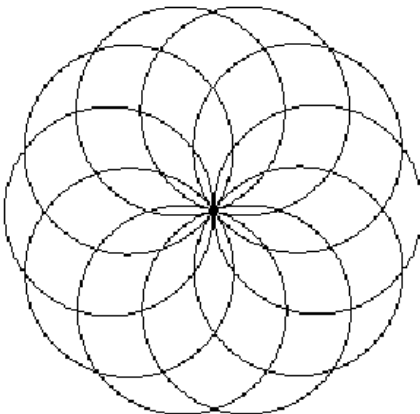
Pour figure

Repete 360 [av 1 td 1]

Fin

**Exercice 2 :** (5pts)

*A l'aide de la figure (1) Réalise la figure (2) :*



Repete 10 [figure td 36]

LYCEE COLLEGIAL OMAR BNO LKHATAB- BERKANE  
DEVOIR PRATIQUE – 2<sup>ème</sup> Semestre **Durée : 30 min**

Nom & Prénom : .....

N° : .....

Classe : .....

**Exercice 1 :** (5pts)

*Ecris une procédure Logo permettant de dessiner la figure (1) :*



**Pour** figure

Repete 180 [av 1 td 1]

LC

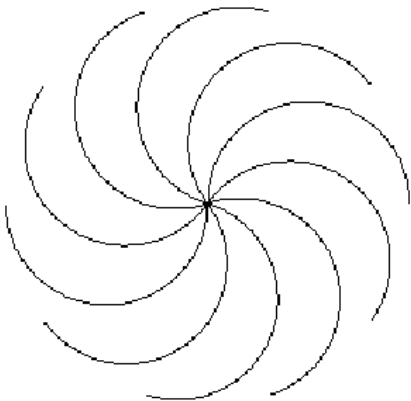
Repete 180 [av 1 td 1]

BC

**Fin**

**Exercice 2 :** (5pts)

*A l'aide de la figure (1) Réalise la figure (2) :*



Repete 10 [figure td 36]

LYCEE COLLEGIAL OMAR BNO LKHATAB- BERKANE  
DEVOIR PRATIQUE – 2<sup>ème</sup> Semestre **Durée : 30 min**

Nom & Prénom : .....

N° : .....

Classe : .....

**Exercice 1 :** (5pts)

*Ecris une procédure Logo permettant de dessiner la figure (1) :*



**Pour figure**

Repete 180 [av 1 td 1] td 180


Repete 180 [av 1 td 1] td 180

Repete 180 [av 2 tg 1] td 180

**Fin**

**Exercice 2 :** (5pts)

*A l'aide de la figure (1) Réalise la figure (2) :*



Repete 10 [figure td 36]